

# INTERVALY I.

## 1. Očísluj správně intervaly

\_\_\_ Kvarta

\_\_\_ Oktáva

1 Prima

\_\_\_ Sexta

\_\_\_ Septima

\_\_\_ Tercie

\_\_\_ Kvinta

\_\_\_ Sekunda

## 2. Vrat' se ještě jednou k prvnímu cvičení a zakroužkuj

**modře** intervaly, které mohou být velké nebo malé


**červeně** intervaly, které mohou být čisté



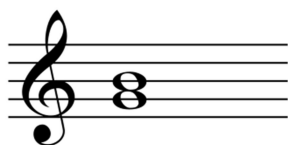
## 3. Spoj interval s jeho názvem




sekunda




sexta



oktáva




prima




tercie



septima



kvarta



kvinta

## INTERVALY II.

1. Pojmenuj intervaly v následujících příkladech a zapiš je do křížovky. Vyjde ti jedno důležité italské slovíčko. Znáš jeho význam?

1. 2. 3. 4. 5.



6. 7. 8. 9. 10



1.									
2.									
3.									
4.									
5.									
6.									
7.									
8.									
9.									
10.									